

ESAMI DI STATO 2009 - SESSIONE INVERNALE

SEZIONE B - SETTORE ARCHITETTURA

TEMA 2

PROVA PRATICA

In una cittadina di medie-piccole dimensioni del Piemonte occidentale, all'interno di un tessuto storico di una certa valenza architettonica e urbana, è presente in un edificio di cortina affacciante su via una antica facciata in muratura portante di matrice tardo ottocentesca, priva nella parte retrostante dell'originale volume costruito.

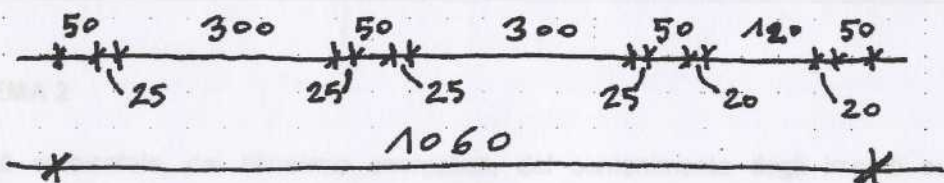
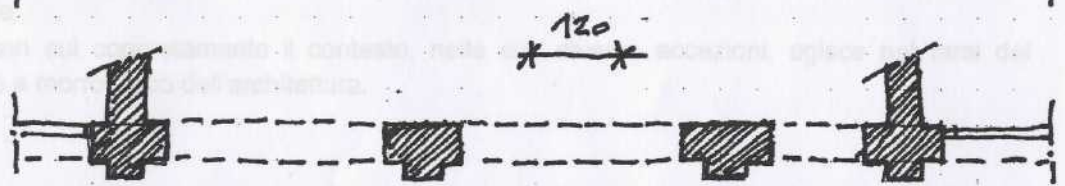

Obiettivo del progetto è la realizzazione di un edificio utilizzando la facciata esistente, con destinazione commerciale al piano terreno e residenziale a quello superiore. L'accesso alla residenza dovrà avvenire da un ingresso indipendente rispetto all'attività commerciale. L'attività commerciale dovrà essere provvista di un retro e di servizi igienici.

Elaborati richiesti:


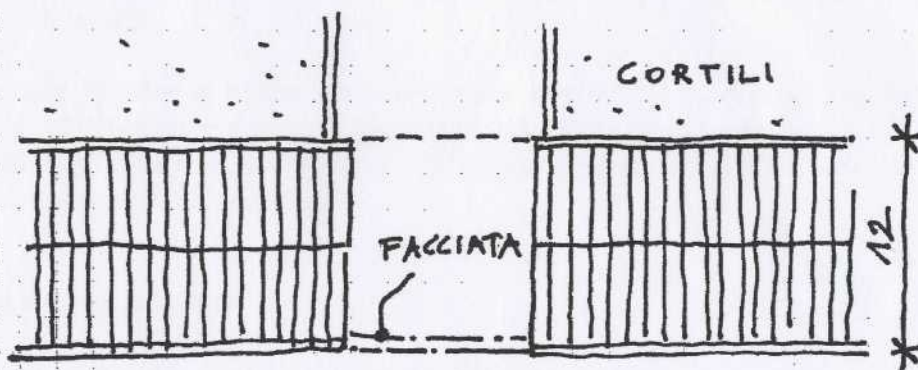
1. planimetria del piano terreno in scala 1:100;
2. planimetria del primo piano in scala 1:100,
3. prospetto principale in scala 1:100;
4. sezione in scala 1:100.

PRIMA PROVA SCRITTA

In relazione allo studio progettuale realizzato, si imposti in maniera diagrammatica e sintetica le modalità di valutazione dei costi di realizzazione dell'intervento.



FACCIATA SU VIA



STRADA

CONTESTO URBANO

