

ESAME DI STATO PER L'ABILITAZIONE ALLA
PROFESSIONE DI ARCHITETTO
II SESSIONE-ANNO 1998

TEMA N. 3

Il lotto oggetto d'intervento perimetrato con tratto-punto si trova in un'area a vincolo cimiteriale.

La linea tratteggiata rappresenta il limite entro il quale non è possibile edificare.

L'amministrazione comunale, proprietaria di quest'area ha deciso di destinarla a servizi: in parte per il quartiere adiacente ed in parte per la città nel complesso.

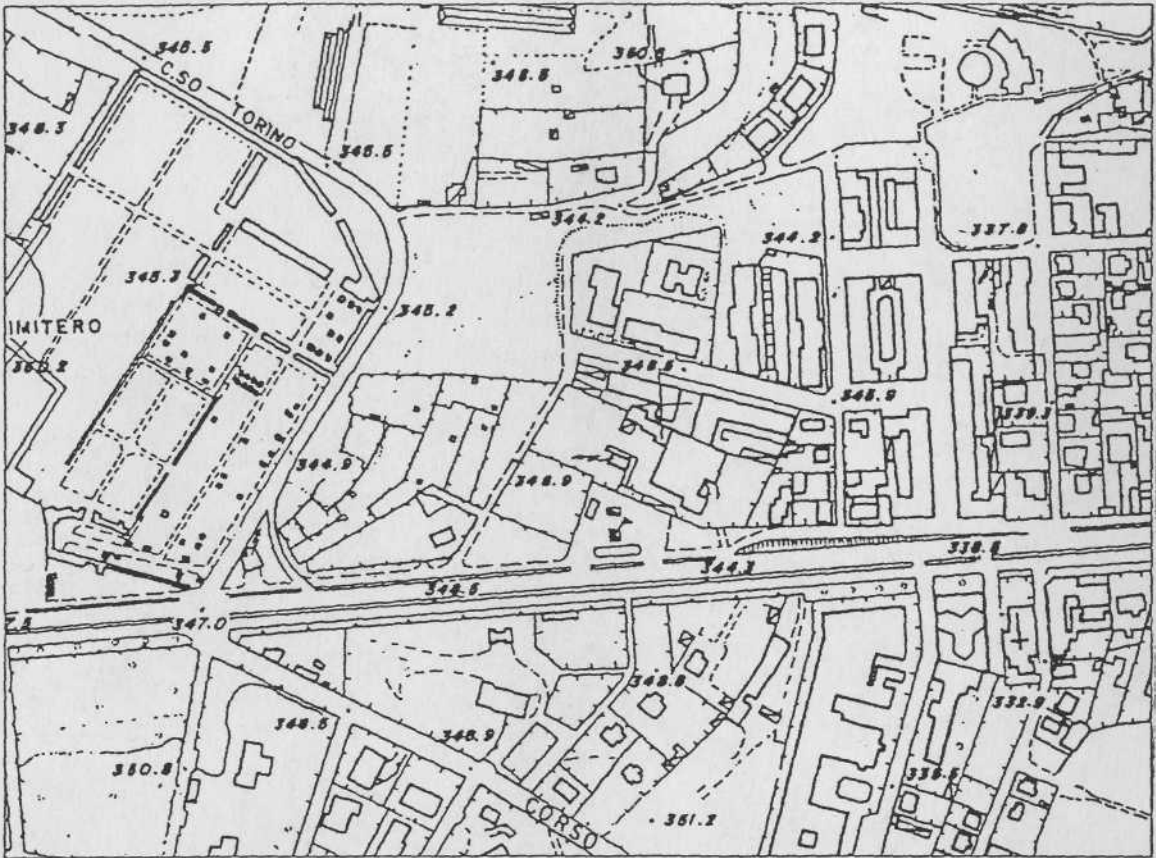

Tale lotto è delimitato su due lati da due arterie di traffico importanti: l'una Corso Francia in arrivo da Torino su cui scorrono i servizi pubblici, l'altra Corso Torino come continuazione della prima, quale principale collegamento con la Valle di Susa.

Il candidato dovrà intervenire tenendo conto che, entro l'area non edificabile dovranno essere realizzati i seguenti servizi:

- un'area verde per il tempo libero;
- un'area sportiva di quartiere recintata;
- aree di parcheggio pubblico che dovranno risolvere:
i fabbisogni pregressi del quartiere adiacente, con capacità di circa 100 posti auto, le necessità dei servizi per il tempo libero e lo sport previsti dal progetto, la sosta custodita ed attrezzata per i campers in visita alla Città per circa 20 unità;

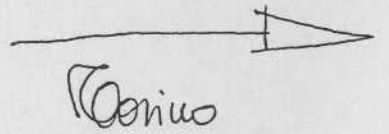
nelle aree con retino rigato, esterna al vincolo cimiteriale, dovranno prevedersi: i servizi annessi agli impianti sportivi (spogliatoi, servizi igienici, bar) ed i servizi annessi all'area sosta per campers suddette.

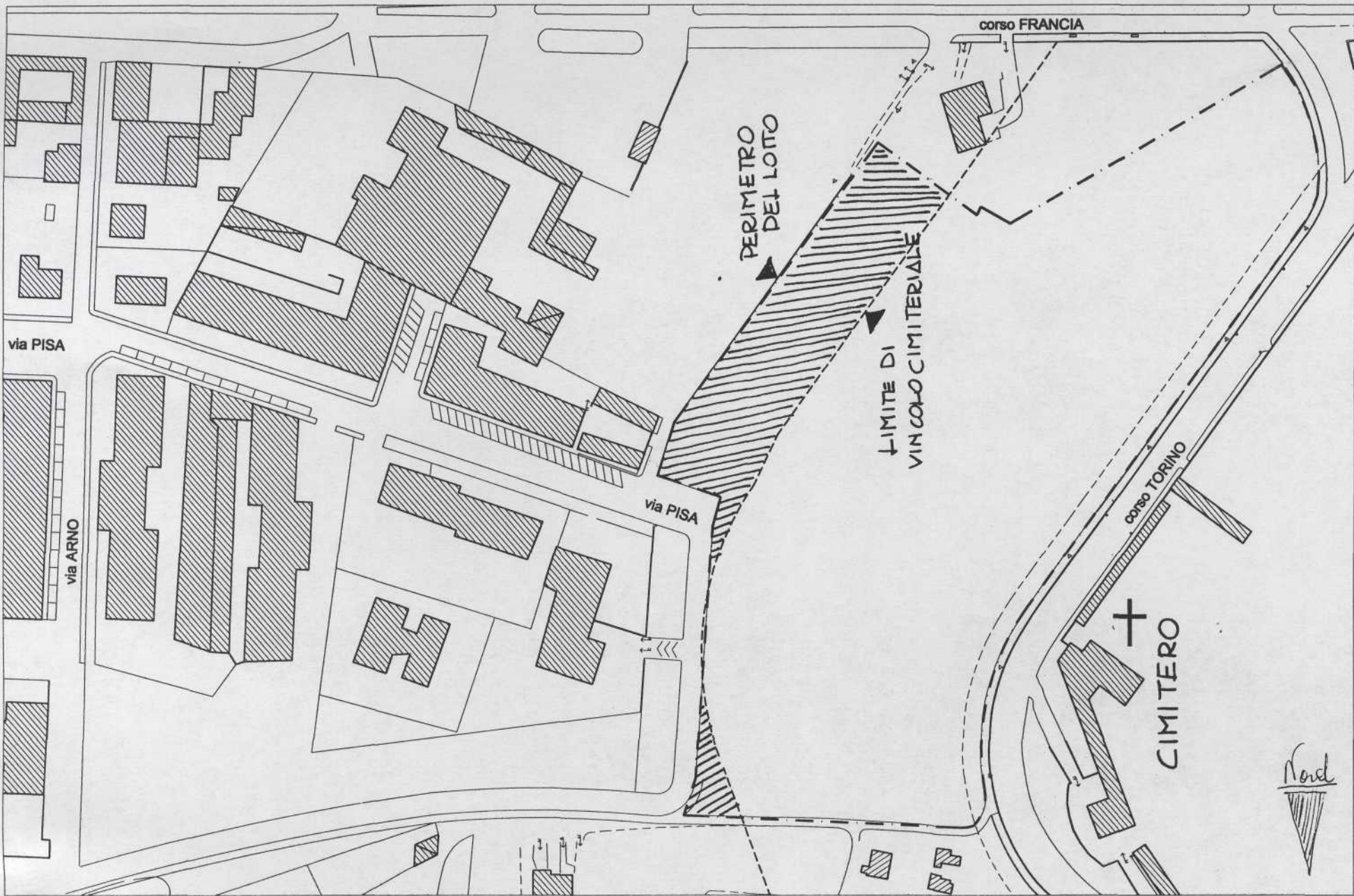
Il candidato dovrà inoltre sviluppare il progetto architettonico definitivo in scala 1/100 del manufatto edilizio facente parte dell'area sportiva, con piante, prospetti e sezioni significative.



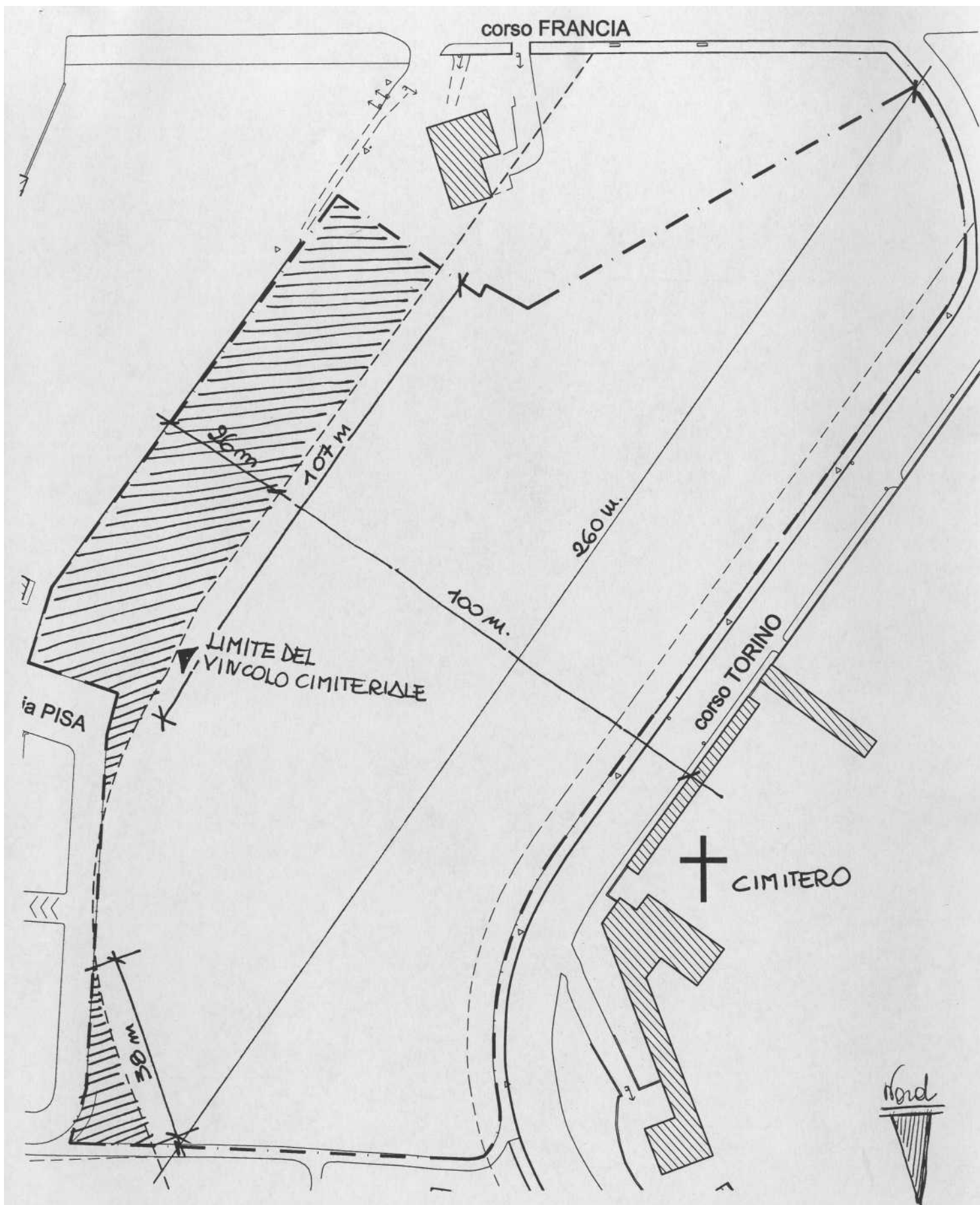
Estratto di mappa scala 1:5000

*Centro
Storico
Colline
Rinascimento*





SCALA 1/1500



SCALA 1/1000