

Esame di Stato per l'abilitazione alla professione di architetto  
Seconda sessione dell'anno 2005

Torino 6 dicembre 2005

Sezione B 'Architettura'

Prova grafica consistente nello sviluppo di un progetto esistente  
e nella stesura di un particolare architettonico

Prova scritta avente come oggetto la valutazione economico-quantitativa della prova grafica

Tema n. 3

A. Sviluppo grafico di un progetto esistente

In un centro urbano del Piemonte meridionale è stato progettato un edificio residenziale pluripiano. Si allega la documentazione relativa all'unità abitativa di tre stanze, cucina e due bagni oltre all'ingresso, in scala 1:100.

Al candidato si chiede di sviluppare la pianta in scala 1:50 del piano terra con le caratteristiche di un disegno esecutivo e almeno un particolare architettonico in scala 1:20.

Allegati:

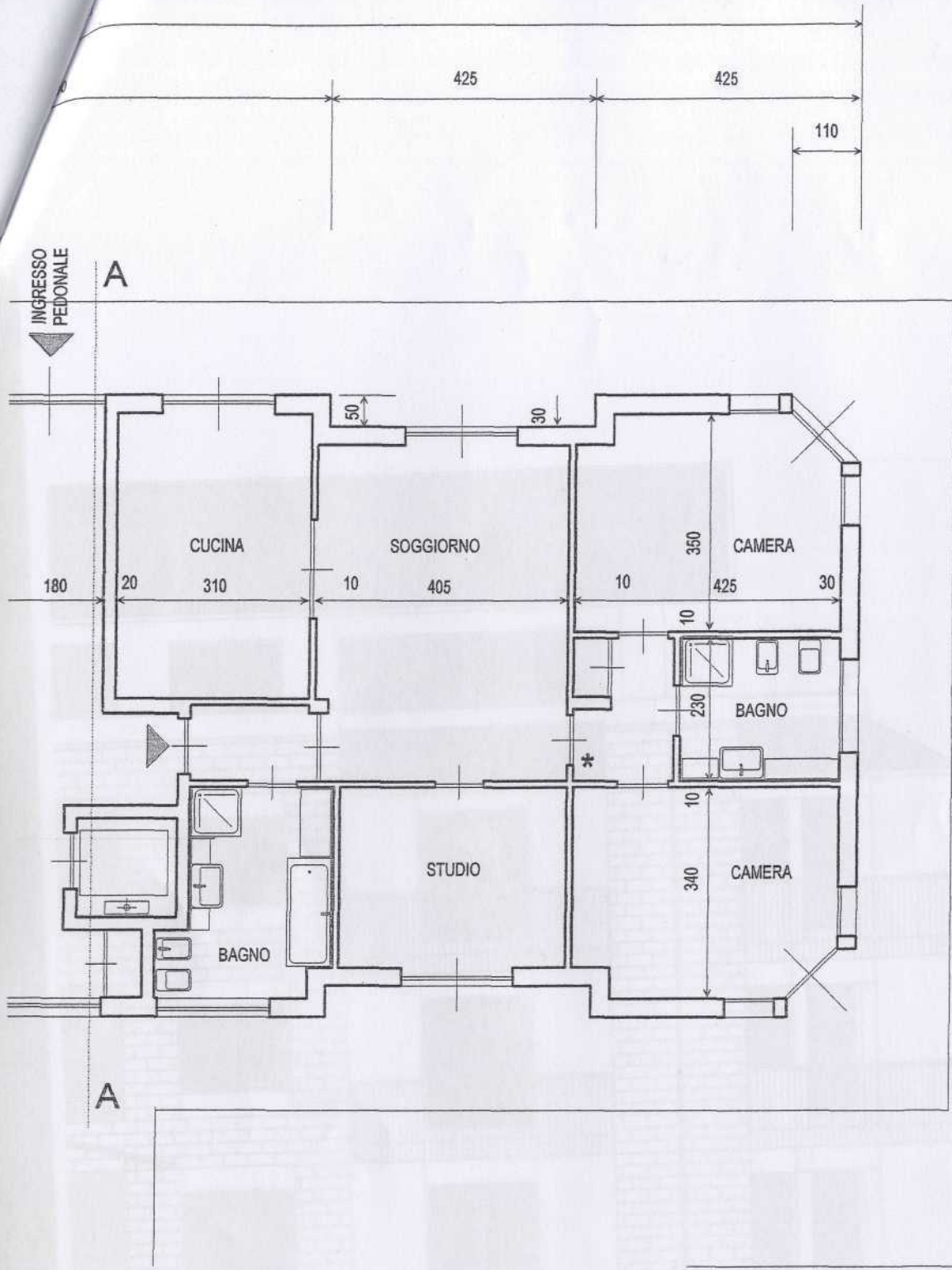
- pianta piano terra dell'unità abitativa in scala 1:100
- sezione A-A in scala 1:100
- prospetti in scala 1:100

B. Valutazione economico quantitativa

Il candidato esponga in forma sintetica le principali voci di costo relative alla costruzione dell'unità immobiliare specificando le fonti dalle quali ha attinto o attingerebbe le informazioni necessarie.

PIANTA PIANO TERRA  
SCALA 1:100





**PIANTA PIANO TERRA**  
 SCALA 1:100






**PROSPETTO NORD**

SCALA 1:100





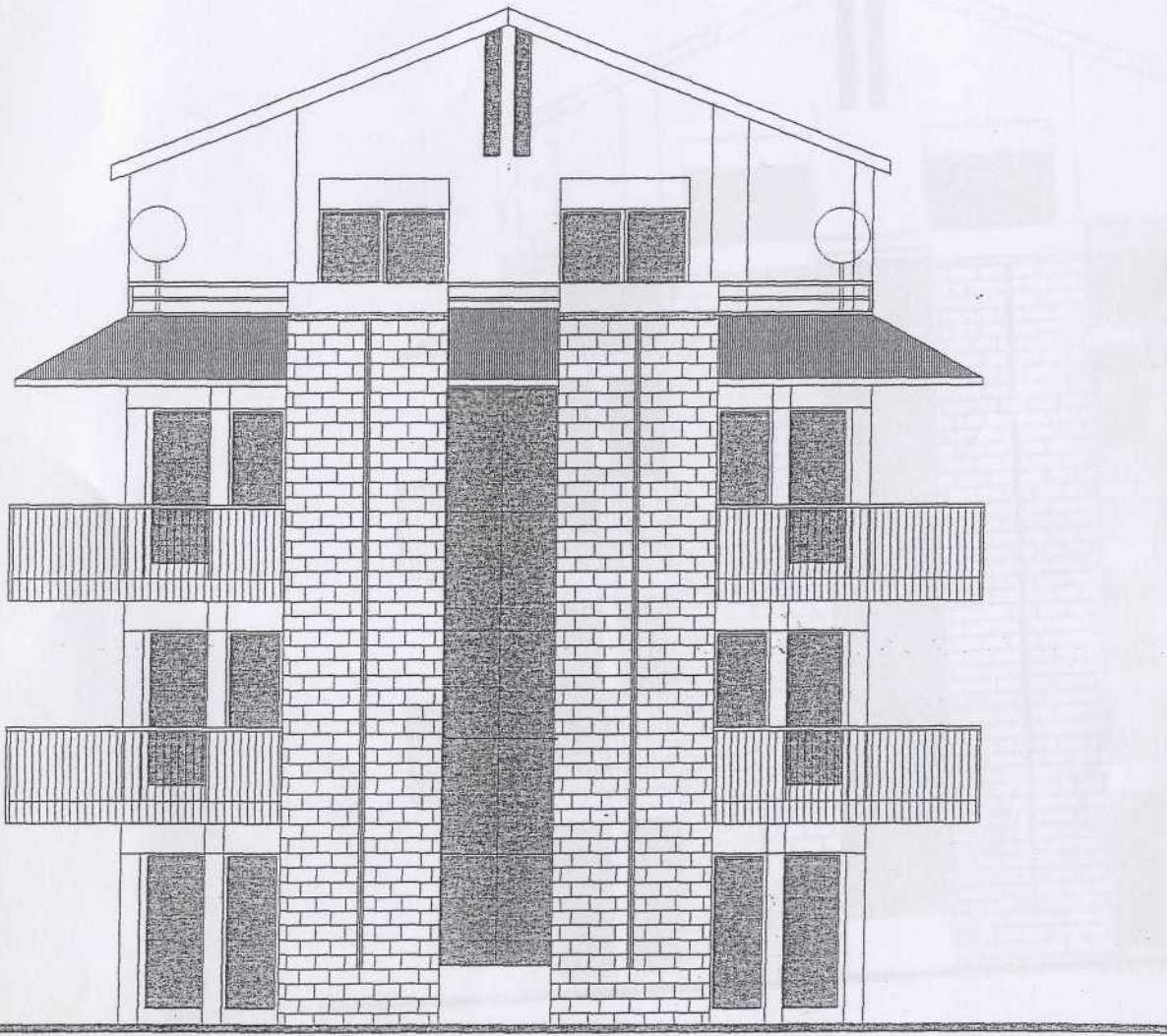
**PROSPETTO SUD**

SCALA 1:100

INTONACO

PROSPETTO EST

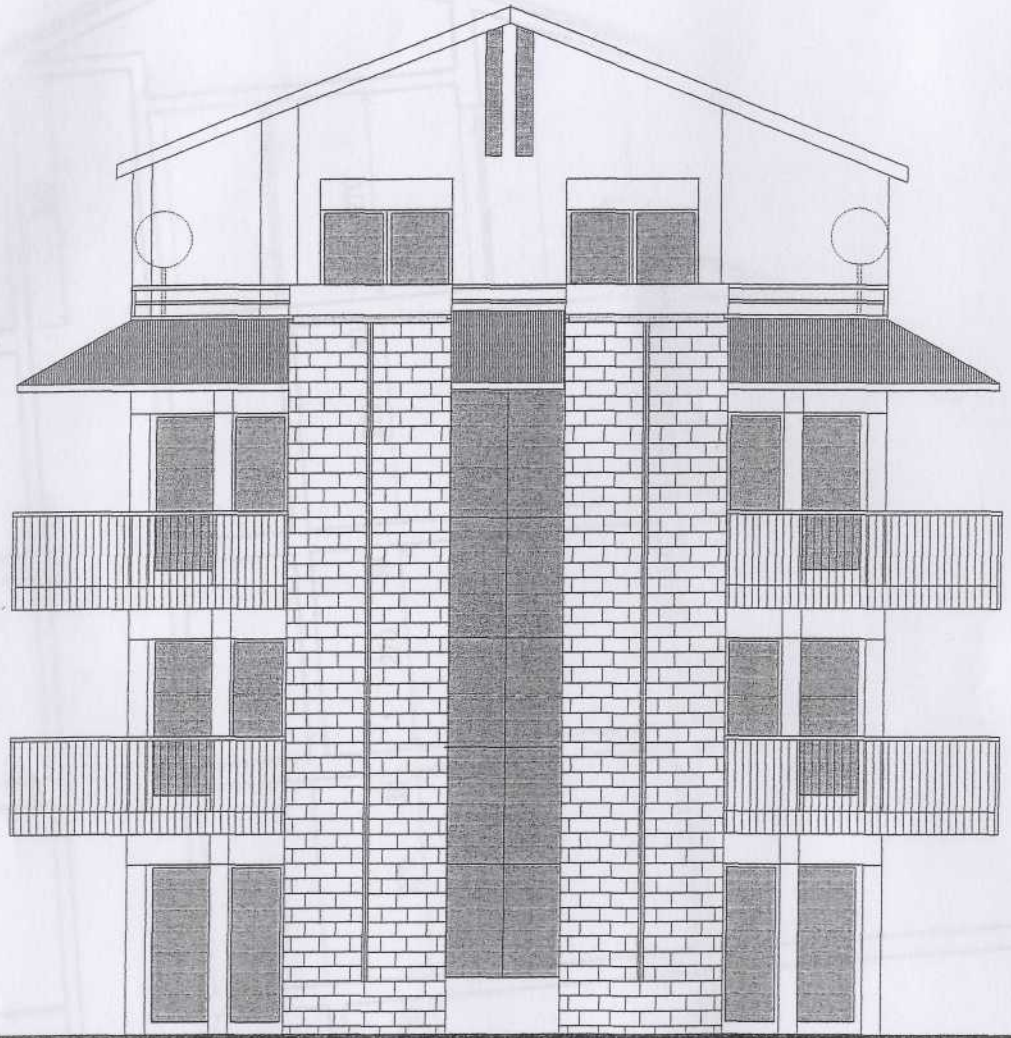
SCALA 1:100



PROSPETTO EST  
SCALA 1:100



SEZIONE A-A  
SCALA 1:100



**PROSPETTO OVEST**  
SCALA 1:100

Faccenda I Torino  
Facoltà di Architettura

Esame di Stato per l'abilitazione alla professione di architetto

# SEZIONE A-A

SCALA 1:100

Sezione B "Architettura"

Prova grafica consistente nello sviluppo di un progetto esistente  
o nella stesura di un particolare architettonico

Prova grafica di cui costituisce oggetto la valutazione concernente l'aspetto della soluzione progettuale

tema n. 6

A. 5

In un caso di concorso e di progetto architettonico, l'aspetto del quale si rilega la  
realizzazione dell'opera, il progettista deve tenere conto delle norme dell'unità immobiliare  
e delle norme di legge e di regolamento che di essa concernono e  
della destinazione d'uso della stessa.

Allegato

Il candidato deve in forma sintetica e precisa, in scala 1:100, sviluppare il progetto  
proposto, tenendo conto delle norme dell'unità immobiliare e delle norme di legge e di regolamento  
che di essa concernono e della destinazione d'uso della stessa.

1170

330

270

30

30

270

30

30

270

30

30

270

30

30

240

150